

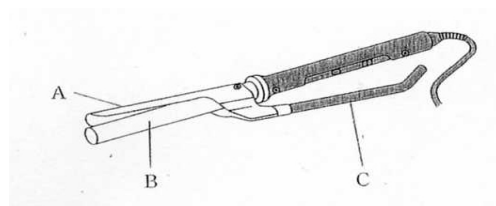
H17・夏

- 問題1 美容用具に関する次の記述のうち、誤っているものはどれか。
- ① メイクアップ用ブラシには、ボタン刷毛や板刷毛、水刷毛などがある。
 - ② セニングシザーズは、静刃の目数が多いほど1度に多くそぐことができる。
 - ③ 替刃式レザーの刃線は、内曲線状のものがよい。
 - ④ ハンドドライヤーは、一般にプロタイプである。

H18・春

- 問題2 右図はヘアアイロンの各部の名称について示した図である。
次のA、B、Cの各部の名称の組み合わせのつち、正しいものはどれか。

- | | | |
|--------|---------|----------|
| A | B | C |
| ① ロッド | グループ | グループハンドル |
| ② グループ | スクリュー | ロッドハンドル |
| ③ グループ | サーモスタット | スクリュー |
| ④ グループ | ロッド | グループハンドル |



H19・春

- 問題3 コームに関する次の記述のうち、正しいものはどれか。
- ① 歯先は、頭皮に接して毛髪を引き起こす手引きをする。
 - ② 歯元は、コーム全体の支えとなり、バランスをとる。
 - ③ 歯は、コームの目に入った毛髪を一線にそろえる。
 - ④ 胴は、引き起こされた毛髪を垂直に立てて両側から支える。

H19・夏

- 問題4 シザーズに関する次の記述のうち、正しいものはどれか。
- ① シザーズを閉じたときに鋏身の裏にあきがなく、動刃と静刃が密着しているものを選定するとよい。
 - ② 小指掛のあるシザーズでは、動刃は小指掛のある方の刃になる。
 - ③ アールシザーズは、一度の操作で毛髪を適度に梳くことができる。
 - ④ 一般にミニシザーズと呼ばれているものは、細かいカットがしやすい。

H20・春

- 問題5 レザーに関する次の記述のうち、正しいものの組み合わせはどれか。
- a 替刃のレザーは、刃をホルダーに取り付けて用いるものである。
 - b 安全カバーの付いた替刃のレザーは、横すべりして切りすぎる危険がある。
 - c 本レザーの刃は、直線状または内曲線状につくられている。
 - d レザーは、バックとエッジが平行でねじれていないものがよい。
- ① a と b
 - ② b と c
 - ③ c と d
 - ④ a と d

H20・夏

- 問題6 ブラシに関する次の記述のうち、誤っているものはどれか。
- ① ヘアブラッシング用は、ある程度硬くて弾力のあるものを用いる。
 - ② 毛払いブラシは、獣毛やナイロン製のやわらかくて毛足の長いものを用いる。
 - ③ テンションを効かしたブロードライスタイリングを行う場合は、目の粗いブラシを用いる。
 - ④ ブロードライスタイリングは、耐熱性のブラシを用いる。

H21・夏

- 問題7 コームに関する次の記述のうち、正しいものはどれか。
- ① 歯先は、コームの目に入った毛髪を一線にそろえるはたらきをする。
 - ② 歯は、引き起こされた毛髪を垂直に立てて両側から支え、そろえるはたらきをする。
 - ③ 歯元は、コーム全体の支えとなり、バランスをとるはたらきをする。
 - ④ 胴は、頭皮に接して毛髪を引き起こす手引きをする。

H23・春

問題8 コームに関する次の記述のうち、誤っているものはどれか。

- ① 歯元は、頭皮に接して毛髪を起す手引きをする。
- ② 消毒の際に消毒液に長くつけすぎると、コームが曲がる場合があるので注意する。
- ③ 消毒は、蒸気消毒や煮沸消毒を避ける。
- ④ 凹凸やねじれがなく、全体の厚みが均等なのがよい。

H23・夏

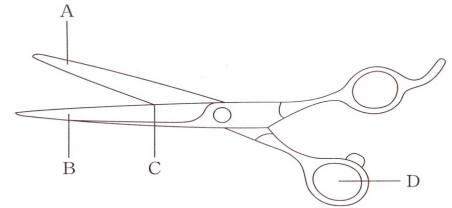
問題9 美容用具に関する次の記述のうち、誤っているものはどれか。

- ① クリッパーは、シザーズと同じようにスライスした毛束をカットすることができる。
- ② トリマーは、刃が小さくネーブ処理に適している。
- ③ レザーの刃は、内曲線状のものが適している。
- ④ シザーズは、母指で操作するほうの刃が動刃となる。

H24・春

問題10 右図のA,B,C,Dに該当する名称の次の組み合わせのうち、正しいものはどれか。

- | | | | |
|------|----|----|-----|
| A | B | C | D |
| ① 鋏先 | 鋏背 | 接点 | 薬指孔 |
| ② 動刃 | 静刃 | 交点 | 母指孔 |
| ③ 鋏背 | 鋏先 | 交点 | 薬指孔 |
| ④ 静刃 | 動刃 | 接点 | 母指孔 |



問題11 美容用具に関する次の記述のうち、誤っているものはどれか。

- ① クリッパーは、シザーズと同じようにスライスした毛束をカットすることができる。
- ② ヘアアイロンのロッドは毛髪を押さえ、グルーブは毛髪を挟むはたらきをする。
- ③ タービネートタイプのドライヤーは、音が静かで毛髪も乱れにくい。
- ④ ヘアスチーマーは、蒸気の粒子の細かいものがよい。

H25・春

問題12 ヘアスチーマーに関する次の文章の()内に入る語句の組み合わせのうち、正しいものはどれか。

「ヘアスチーマーは、(A)により、薬剤の(B)したり、頭皮の(C)を高めたりするなどのはたらきをする」

- | | | |
|------|-------|------|
| A | B | C |
| ① 熱風 | 作用を軽減 | 生理機能 |
| ② 蒸気 | 浸透を促進 | 物質代謝 |
| ③ 熱風 | 定着を増加 | 可溶化 |
| ④ 蒸気 | 浸透を軽減 | 血行 |

H25・夏

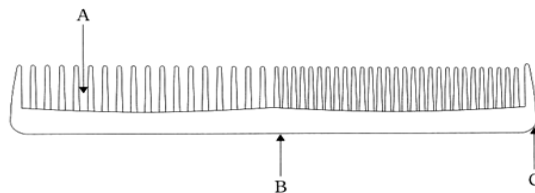
問題13 シザーズに関する次の記述のうち、誤っているものはどれか。

- ① シザーズは、使用目的によりカッティングシザーズとセニングシザーズとに分けられる。
- ② シザーズの操作において、母指で操作する刃を静刃という。
- ③ アールシザーズは、フロント、サイド、ネーブなどの細かい部分の修整や、毛先のつながりをつけるのに適している。
- ④ シザーズを選ぶには、開閉したとき、交点での接触圧が均等であるものがよい。

H27・春

問題14 下図はコームを表したものである。次のA、B、Cに該当する名称の組合せのうち、正しいものはどれか。

- | | | |
|-----|---|---|
| A | B | C |
| ① 歯 | 胴 | 背 |
| ② 目 | 背 | 肩 |
| ③ 歯 | 背 | 目 |
| ④ 目 | 肩 | 胴 |



H27・夏

問題15 シザーズに関する次の記述のうち、誤っているものはどれか。

- ① シザーズは開閉したときに交点での接触圧が均等であるものがよい。
- ② アールシザーズは、刃が弓なりに反っているので、フロントなどの細かい部分の修整に適している。
- ③ セニングシザーズは、毛髪の分量をほどよく整えるために用いる。
- ④ 小指掛のあるシザーズでは、小指掛のあるほうの刃が動刃となる。

H28・春

問題16 ブラシの手入れ法に関する次の記述のうち、正しいものはどれか。

- ① やわらかい毛のブラシは、洗剤に浸すと毛が抜けるおそれがあるので、指先で汚れだけをはらう。
- ② かたい毛のブラシは、洗剤に浸し、洗浄ブラシで汚れをこすり落とす。
- ③ 洗浄後のブラシは、傷まないように毛を上に向けて乾かす。
- ④ ブラシはコームより汚れが付きにくいので、頻繁に洗浄・消毒をする必要はない。

H28・夏

問題17 コームに関する次の記述のうち、正しいものはどれか。

- ① 歯元は、コーム全体の支えとなり、バランスをとる。
- ② 歯は、コームの目に入った毛髪を一線にそろえる。
- ③ 歯先は、頭皮に接して毛髪を引き起こす手引きをする。
- ④ 胴は、引き起こされた毛髪を垂直に立てて両側からささえる。

H29・春

問題18 ブラシに関する次の記述のうち、正しいものはどれか。

- ① 毛払いブラシは、かたくて毛の短いものがよい。
- ② ネイルブラシは、カラーリング後に、仕上げとして用いられる。
- ③ メイクアップ用ブラシの板刷毛は、舞台化粧や花嫁・舞妓（まいこ）の化粧に用いられる。
- ④ ヘアブラッシング用ブラシは、やわらかくて毛の長いものがよい。

H30・春

問題19 ブラシの手入れ方法に関する次の記述のうち、正しいものはどれか。

- ① 使用したブラシは、消毒を行う前に洗浄する。
- ② 洗浄したブラシは、毛が変形しないよう、毛を上に向けて乾かす。
- ③ チークブラシは、洗浄ブラシで汚れを落とす。
- ④ 動物毛のブラシは、汚れが付きにくいので、使用の都度洗浄・消毒を行う必要がない。

H30・後期

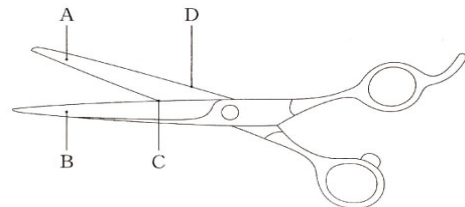
問題20 シザーズに関する次の記述のうち、誤っているものはどれか。

- ① セニングシザーズは、毛量をほどよく整えるために用いる。
- ② 母指で操作する方の刃を動刃という。
- ③ 動刃と静刃の間に、凹レンズ状のあきが正確につくられているものがよい。
- ④ シザーズを開閉したときに、交点での接触圧が均等であるものがよい。

H31・前期

問題21 右図のA、B、C、Dに該当する名称の次の組合せのうち、正しいものはどれか。

- | | | | | |
|---|----|----|----|----|
| | A | B | C | D |
| ① | 動刃 | 静刃 | 交点 | 鋏背 |
| ② | 静刃 | 動刃 | 交点 | 鋏背 |
| ③ | 動刃 | 静刃 | 触点 | 刃線 |
| ④ | 静刃 | 動刃 | 触点 | 刃線 |



H31・後期

問題22 シザーズの選定法と手入れ法に関する次の記述のうち、正しいものはどれか。

- ① シザーズを開閉したときに、ヒットゴム（接点）での接触圧が均等であるものはよい。
- ② 動刃と静刃の間に、凹レンズ状のあきが正確につくられているものがよい。
- ③ 使用した後は、毛くずなどの汚れをふき取り、消毒してから清潔に保管する。
- ④ ネジが緩んでしまうので、オイルはネジの部分に決してつけてはいけない。

R2・前期

- 問題23 シザーズに関する次の記述のうち、誤っているものはどれか。
- ① シザーズを開閉したときに、2枚の刃の交点での接触圧が均等であるものがよい。
 - ② 動刃と静刃の間に、凸レンズ状のあきが正確につくられているものがよい。
 - ③ 母指で操作する方の刃が静刃になる。
 - ④ シザーズは、相対した2枚の刃による剪断応力を利用している。

- 問題24 毛髪用電気器具に関する次の記述のうち、誤っているものはどれか。
- ① ヘアアイロンのスクリュー（ねじ）は、グループハンドル開閉の支点である。
 - ② 毛髪用電気器具の熱源として、遠赤外線を利用したものはない。
 - ③ ヘアアイロンは、熱と物理的な力によって、毛髪の構造に変化を与える。
 - ④ タービネートタイプのドライヤーは、風の循環と旋回を利用している。

R2・後期

- 問題25 コーム各部の名称とそのはたらきに関する次の記述のうち、誤っているものはどれか。
- ① 肩は、コームの目に入った毛髪を一線にそろえるはたらきをする。
 - ② 胴は、コーム全体の支えとなり、バランスをとるはたらきをする。
 - ③ 歯は、毛髪を引き起こし垂直に立てて両側から支え、そろえるはたらきをする。
 - ④ 歯先は、頭皮に接して毛髪を引き起こす手引きをする。

- 問題26 ヘアドライヤーに関する次の記述のうち、誤っているものはどれか。
- ① ブロータイプのヘアドライヤーは、音が静かで毛髪も乱れにくいですが、タービネートタイプに比べてドライイングに時間を要する。
 - ② ヘアドライヤーは、ファンの回転によって起こされた風がニクロム線によって熱せられ、送風される仕組みになっている。
 - ③ 温度を一定に保つため、着脱式のアタッチメントを使用する。
 - ④ ヘアドライヤーの熱によって毛髪の水分を蒸発させるが、結合水まで蒸発するとオーバードライとなる。

R3・前期

- 問題27 美容の電気器具に関する次の記述のうち、正しいものはどれか。
- ① 電熱式アイロンに内蔵されたサーモスタットは、一定の温度を保つはたらきをする。
 - ② ハンドドライヤーは、タービネートタイプである。
 - ③ スタンドドライヤーは、消費電力が2,000W以上のものが多い。
 - ④ ヘアスチーマーは、乾熱を利用して技術効果を高めるはたらきをする。

R3・後期

- 問題28 シザーズに関する次の記述のうち、誤っているものはどれか。
- ① 力学的には、てこの原理を応用している。
 - ② 薬指孔のある方の刃が静刃である。
 - ③ 2枚の刃による剪断応力を利用している。
 - ④ 動刃と静刃の間にあきのないものがよい。

R4・前期

- 問題29 次のうち、モーターと発熱器の両方を内蔵する美容用具はどれか。
- ① クリッパー
 - ② ワッフルアイロン
 - ③ ヘアドライヤー
 - ④ ホットカーラー

- 問題30 ヘアカutting用のレザーに関する次の記述のうち、誤っているものはどれか。
- ① 本レザーの刃線の形態は、内曲線状である。
 - ② 替刃のレザーの刃は、直線状である。
 - ③ カバーのついた替刃のレザーは、本レザーと比較すると横滑りしないので安全性が高い。
 - ④ 背と切れ刃が平行であり、ねじれがないものがよい。

R4・後期

問題31 下図は、シザーズが応用しているこの原理での力学的な点を表したものである。ABCに該当する名称の次の組み合わせのうち正しいものはどれか。

- | | A | B | C |
|---|-----|----|-----|
| ① | 作用点 | 支点 | 力点 |
| ② | 力点 | 交点 | 作用点 |
| ③ | 力点 | 支点 | 作用点 |
| ④ | 作用点 | 交点 | 力点 |

